


Wie wächst ein Schmetterling?


Ordne (1-5) die Stadien in der Entwicklung eines Schmetterlings nach der richtigen Reihenfolge und benenne sie. Wenn du willst, kannst du rechts neben den Linien eine farbige Version zeichnen.












Eine dieser Zeichnungen ist nicht ein eigentliches Stadium der Entwicklung, sondern ein Vorgang.

Welche Zeichnung? _____

Wie wächst ein Schmetterling?

Wie lebt ein ausgewachsener Falter?
Lies den Text und beantworte die Fragen.



Das Leben eines Schmetterlings als Falter ist oft das kürzeste Stadium in seiner Entwicklung. Die meisten Tagfalter leben drei bis fünf Wochen. Häufig lebt das Männchen weniger lang als das Weibchen. Die Falter suchen sich einen Partner, nach der Paarung sucht das Weibchen die richtigen Futterpflanzen für ihren Nachwuchs. Dort legen sie dann je nach Art zwischen 50 und 3000 Eier.



Wie lange dauert wohl für die meisten Schmetterlinge das Leben als Raupe im Vergleich zum Leben als Falter?

Was ist ein Tagfalter?

Wieso muss das Weibchen Futterpflanzen suchen?

Wieso lebt das Weibchen wohl meist länger als das Männchen?
